

رقم التلميذ(ة)
في منظومة مسار:

المستوى 2-3

الرياضيات

رائز التقويم التشخيصي في مادة الرياضيات مشروع PEEQ 2016

الأكاديمية الجهوية:

المديرية الإقليمية:

المؤسسة:

◆ حتى تُصبح أكثر ذكاءً، سنقوم بتقويم مكتسباتك من خلال إنجاز هذا الرّائز لمساعدتك على تحسين مستواك الدّراسي.

◆ لا يُسمح باستعمال الآلة الحاسبة أو الهاتف النّقال أو أيّ وسيلة أخرى تُساعد في ذلك.

الرقم:

الفوج:

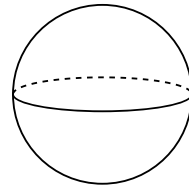
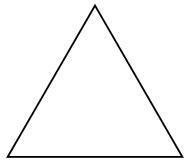
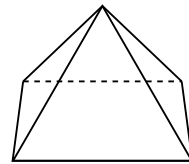

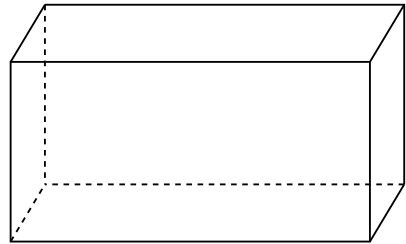

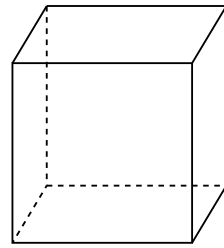
المستوى:

الإسم:

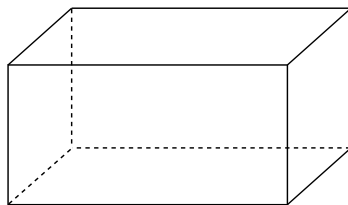
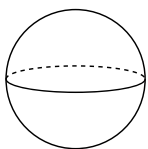
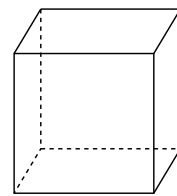
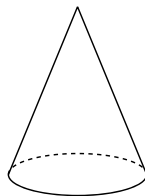
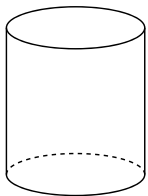
المركز الوطني للتقويم والامتحانات والتوجيه

- قسم التقويم -

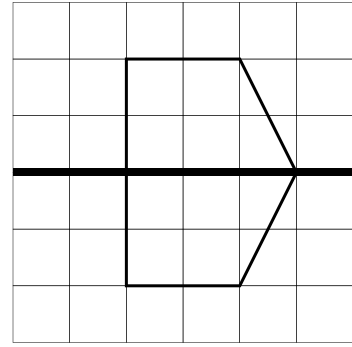
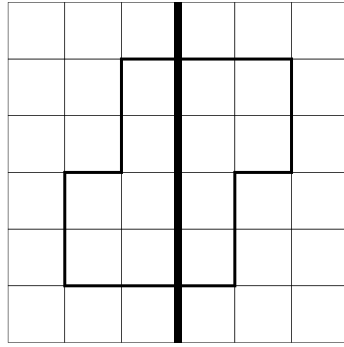
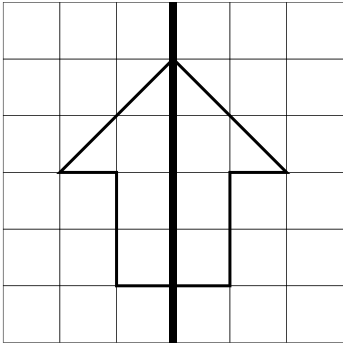
24- صل (ي) بخط كل مجسم من المجسمات الآتية بشكل الوجه الأمامي المناسب له :



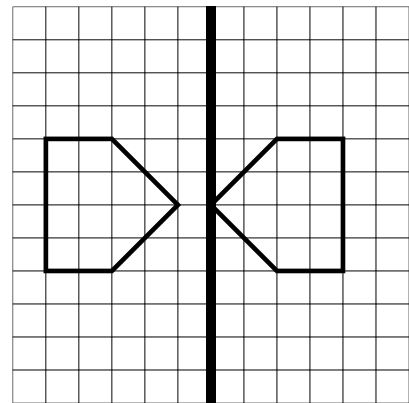
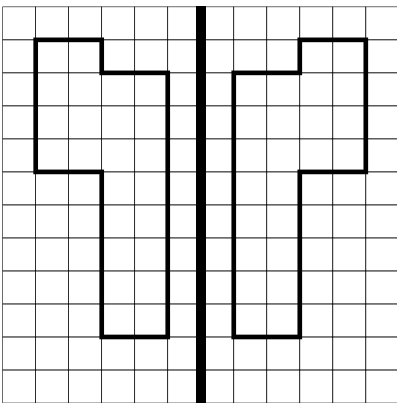
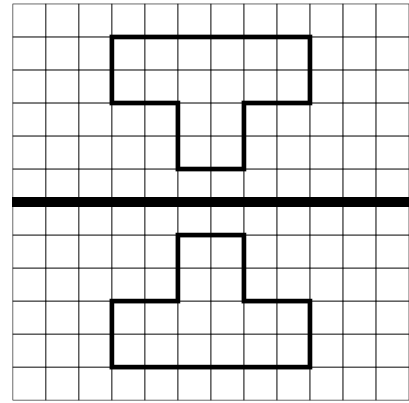
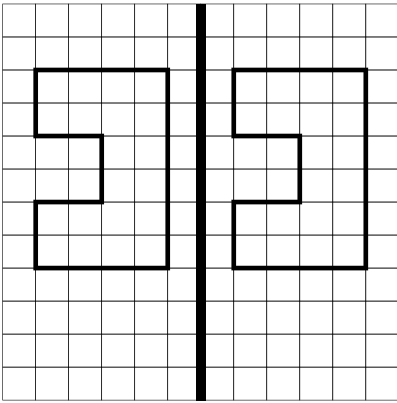
25- ضع (ي) علامة (x) داخل المكعب و علامة (o) داخل متوازي المستطيلات.




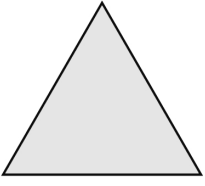
26- ضَع (ي) عَلامَةَ (x) فِي الأَخانَةِ تَحْتَ الشَّكْلِ الَّذِي يُمَثِّلُ لَهُ المُستَقيمَ مَحورًا لِلتَّماتِلِ :



27- ضَع (ي) عَلامَةَ (x) فِي الأَخانَةِ تَحْتَ كُلِّ شَكْلَيْنِ مُتَماتِلَيْنِ بِالنَّسبَةِ لِـمَحورِ التَّماتِلِ :




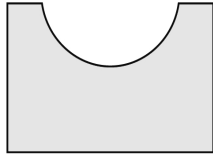
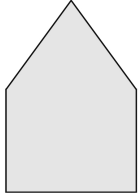
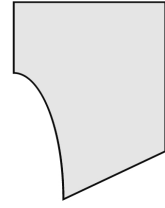
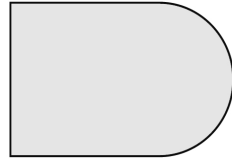
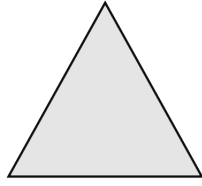
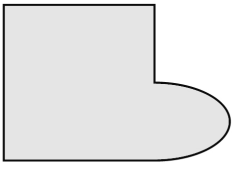
28- ضع (ي) علامة (x) في الخانة تحت المثلث:



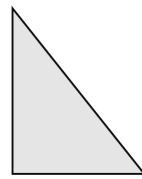
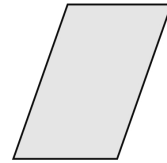
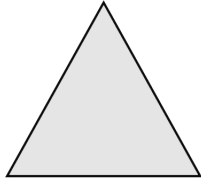
29- أنشئ (ي) مستطيلاً قياس طوله 7 سنتيمترات وقياس عرضه 4 سنتيمترات باستخدام الأدوات الهندسية المناسبة:

30- أنشئ (ي) مربعاً قياس ضلعه 3 سنتيمترات باستخدام الأدوات الهندسية المناسبة:

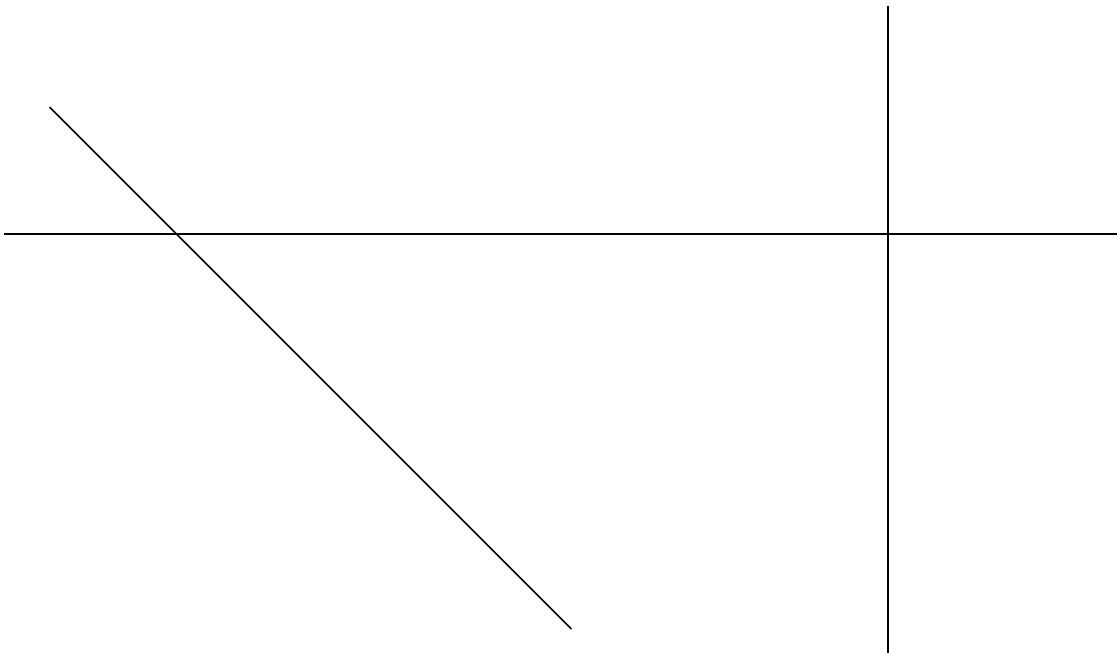
31- ضَع (ي) عَلامَةَ (x) فِي الأَخانَةِ تَحْتَ كُلِّ مُضَلَعٍ :



32- ضَع (ي) عَلامَةَ (x) فِي الأَخانَةِ تَحْتَ كُلِّ شَكْلِ لَهُ زاوِيَّةٌ قائِمَةٌ :



33- لَوِّن (ي) كُلَّ زاوِيَّةٍ قائِمَةٍ فِي الشَّكْلِ التَّالِي :



34- رَتِّبْ (ي) الْأَجْسَامَ التَّالِيَةَ مِنَ الْأَخْفِّ إِلَى الْأَثْقَلِ:

دَرَّاجَةٌ - سَيَّارَةٌ - كِتَابٌ - وَرَقَةٌ نَقْدِيَّةٌ

الجواب :

35- صِلْ (ي) بِخَطِّ كُلِّ جِسْمٍ بِالْكَتْلَةِ الْمُنَاسِبَةِ لَهُ:

● 800 كِيلُوغَرَام

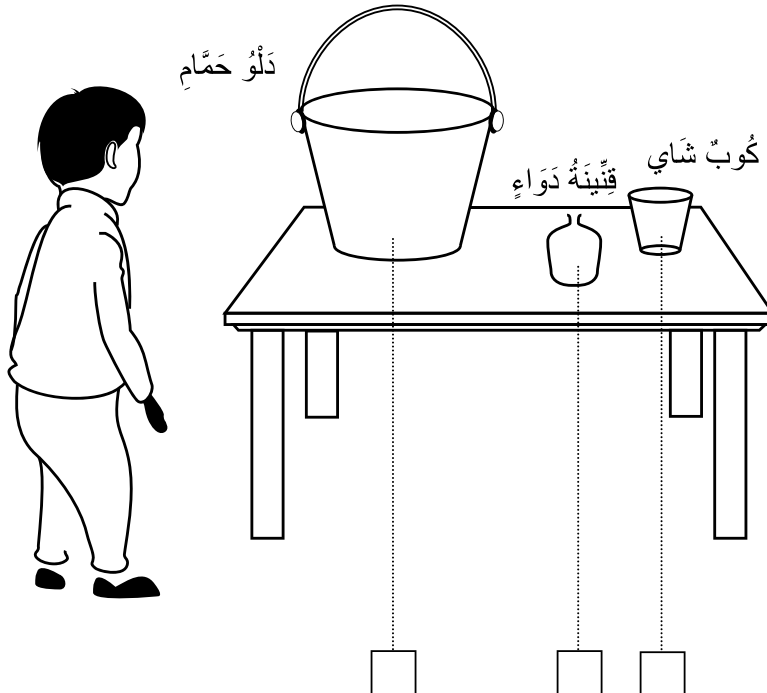
● 12 غَرَام

● 70 كِيلُوغَرَام

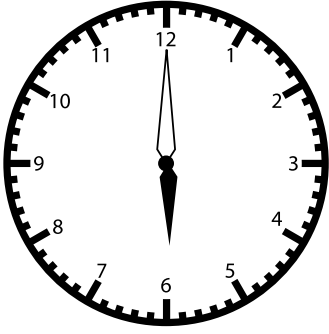
● 500 غَرَام



36- ضَعِ (ي) عَلامَةَ (x) فِي الْخَانةِ تَحْتَ الْإِناءِ الَّذِي يَسِعُ أَكْثَرَ مِنْ لِيْترٍ وَاحِدِ (1ل)

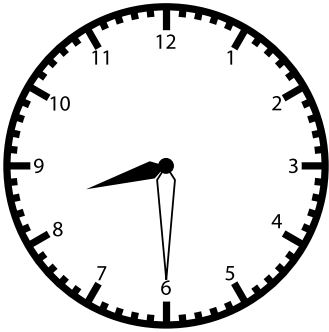


37- إِلَى كَمْ تُشِيرُ السَّاعَةُ التَّالِيَةُ؟



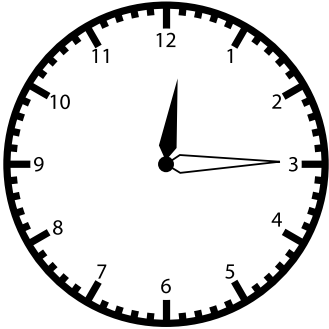
السَّاعَةُ تُشِيرُ إِلَى

38- إِلَى كَمْ تُشِيرُ السَّاعَةُ التَّالِيَةُ؟



السَّاعَةُ تُشِيرُ إِلَى

39- إِلَى كَمْ تُشِيرُ السَّاعَةُ التَّالِيَةُ؟



السَّاعَةُ تُشِيرُ إِلَى

40- صِلْ (ي) بِخَطِّ كُلِّ مَدَّتَيْنِ زَمَنِيَّتَيْنِ مُتَسَاوِيَّتَيْنِ:

- 30 يَوْمًا
- 24 سَاعَةً
- 12 شَهْرًا
- 7 أَيَّامٍ
- 10 سَاعَاتٍ
- سَنَةٌ وَاحِدَةٌ
- شَهْرٌ وَاحِدٌ
- يَوْمٌ وَاحِدٌ
- أُسْبُوعٌ وَاحِدٌ

